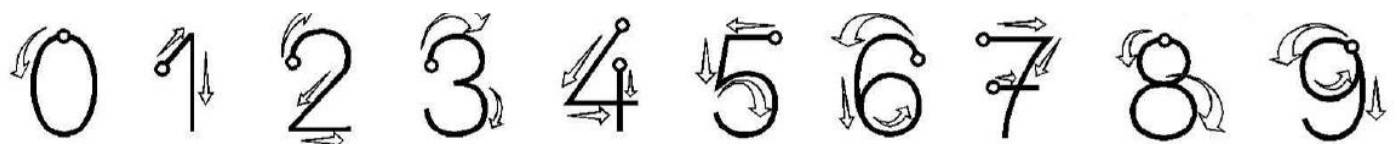
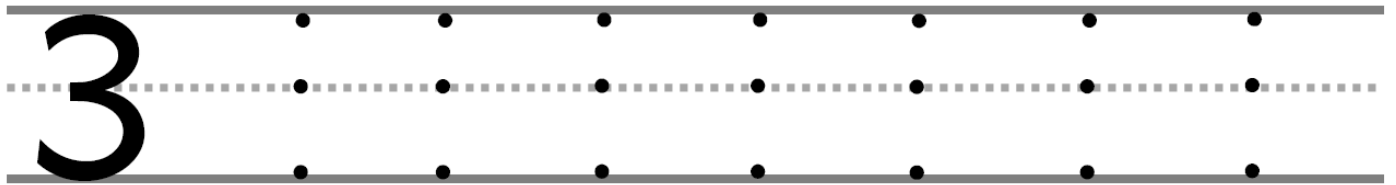
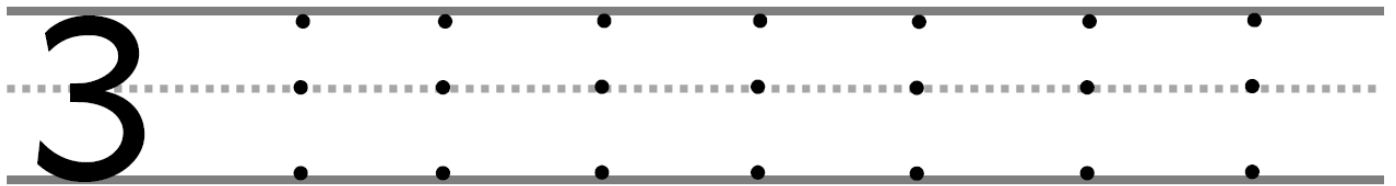
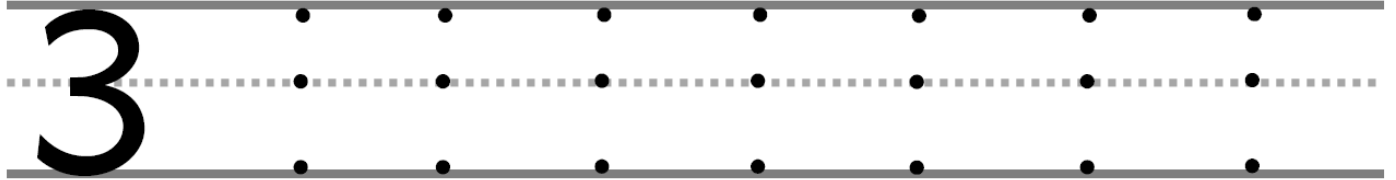


Annexe 4 : J'écris le chiffre 3. Je remarque qu'il est en lien avec le graphisme sur les ponts. Attention à **bien respecter le sens de l'écriture !**



**TROIS** - trois - trois



Annexe 4 : J'écris le chiffre 5. Je remarque qu'il est en lien avec le graphisme sur les ponts. Attention à **bien respecter le sens de l'écriture !**



**CINQ** - cinq - cinq



Attention : le trait horizontal doit bien se faire **sur la ligne** et non pas dessous. Il y a une erreur concernant les modèles des 3 premières lignes.

